

**TEST UNIC
GEOGRAFIE
CLASA a VII –a**

- Toate subiectele sunt obligatorii
- Se acordă 10 puncte din oficiu
- Timpul de lucru efectiv este de 50 de minute

SUBIECTUL I

(20 puncte)

Scrieți, pe foaia de test litera corespunzătoare răspunsului corect, pentru fiecare din afirmațiile de mai jos:

- Desparte continentul Asia de continentul american:
 - Strâmtoarea Bering
 - Strâmtoarea Bosfor
 - Strâmtoarea Malacca
 - Strâmtoarea Ormuz
- Cel mai populat stat asiatic este:
 - Arabia Saudită
 - India
 - Japonia
 - Pakistan
- Vârful Everest din Munții Himalaya se află la granița dintre statele :
 - China și Bhutan
 - India și China
 - Nepal și China
 - Nepal și India
- Se varsă printr-un estuar fluviul:
 - Gange
 - Lena
 - Mekong
 - Obi
- Păduri ecuatoriale se întâlnesc în:
 - Pen. Arabă
 - Pen. Iamal
 - Pen. Indochina
 - Pen. Kamceatka

SUBIECTUL II

(20 puncte)

Harta de mai jos se referă la subiectul II . Pe hartă sunt marcate cu litere de la A la E câteva țări asiatice și cu cifre de la 1 la 5 orașe capitală.

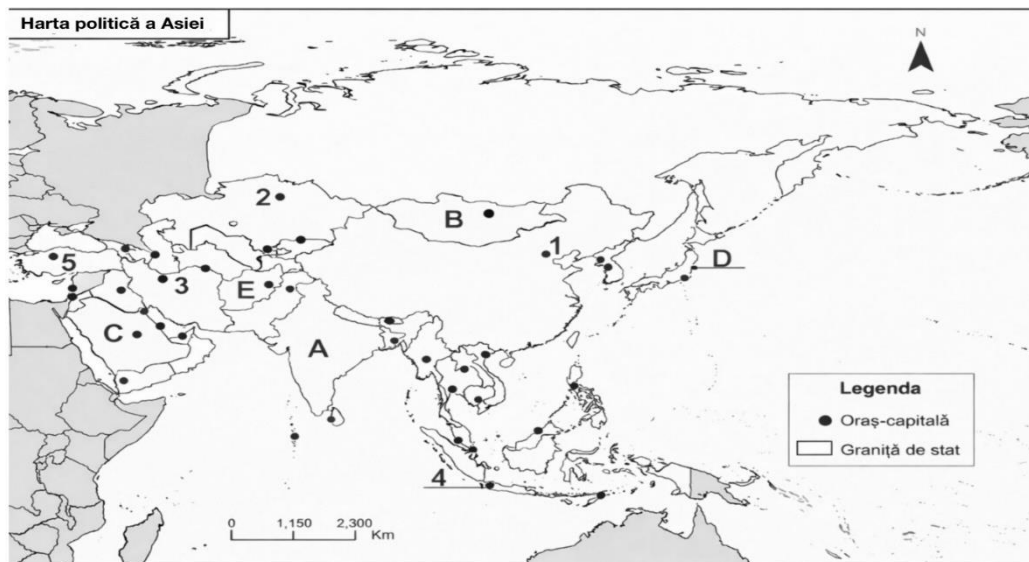


Fig. 1. Harta politică a Asiei

Analizează harta de mai sus și scrie pe foaia de testare:

- Numele statelor marcate cu literele : A.....B.....C.....D.....
- Numele orașelor capitală: 1..... 2.....4.....5.....
- Numele celui mai mare podiș situat în statul marcat pe hartă cu litera A este.....
- Pe teritoriul statului marcat pe hartă cu litera D s-a format megalopolisul.....
- Statul cu cea mai redusă densitate medie a populației este marcat pe hartă cu litera.....
- Podișul Tibet este situat în statul a cărei capitală este notată cu cifra.....
- Numele peninsulei în care este situat statul notat pe hartă cu litera A.....

8. Religia dominantă în statul marcat pe hartă cu litera C este.....iar în statul notat cu litera D este.....
9. Populația statului marcat pe hartă cu litera B aparține rasei.....
10. Vulcanul Krakatoa este situat în statul a cărei capitală este notată pe hartă cu cifra.....
11. În nordul statului a cărei capitală este marcată cu cifra 3 se află lacul/marea.....
12. Vegetația mediteraneană este prezentă în statul a cărei capitală este notată cu cifra.....
13. Statul marcat pe hartă cu litera C are un climat.....

SUBIECTUL III

(20 puncte)

Pentru fiecare afirmație de mai jos, încercuiește litera A, dacă consideri afirmația adevărată sau încercuiește litera F, dacă consideri afirmația falsă:

1. Cea mai vorbită limbă asiatică este mandarina. A/F
2. Kuala Lumpur este capitala statului Indonezia. A/F
3. Lacul Baikal, cel mai adânc lac din lume este de origine tectonică . A/F
4. Cea mai mare producătoare de cărbune din Asia este China. A/F
5. În Peninsula Arabă este întâlnit climatul musonic. A/F

SUBIECTUL IV

(20 puncte)

Completează spațiile libere folosind din lista de mai jos cifra corespunzătoare informației corecte:

Asia este cel mai _____¹ continent al lumii, având o populație foarte variată din punct de vedere etnic, lingvistic și religios. Harta politică a Asiei s-a modificat în epoca modernă prin procesul de _____² și prin destrămarea _____³. Deplasările de populație au fost determinate de conflicte armate, terorism și _____⁴, influențând structura populației. Datorită limitelor sale geografice și politice, în Asia există state _____⁵, precum Turcia și Federația Rusă.

Cuvinte la alegere:

1. migrație • 2. transcontinentale • 3. decolonizare • 4. catastrofe naturale • 5. URSS • 6. populat

SUBIECTUL V

(10 puncte)

Analizează graficele de mai jos și răspunde la următoarele cerințe:

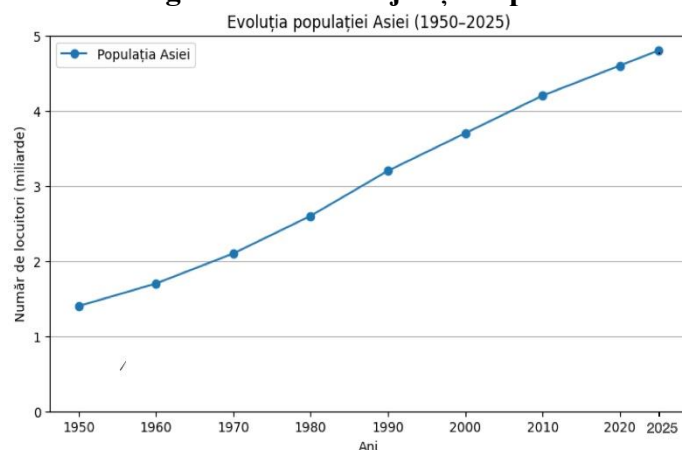


Fig. 2. Evoluția numărului populației Asiei

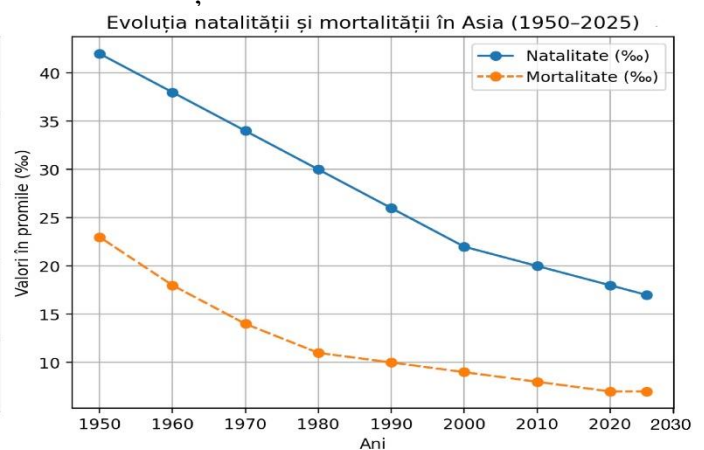


Fig. 3. Evoluția ratei natalității și a mortalității în Asia

1. Care este numărul locuitorilor Asiei în anul 2025?
2. Cu cât a crescut numărul locuitorilor Asiei din 1950 până în 2025?
3. Precizează valoarea ratei natalității și a ratei mortalității pentru anii 1950 și 2025?
4. Calculează bilanțul natural al populației pentru anii 1950 și 2025, exprimând rezultatul în promile (‰)
5. Menționează o cauză care a condus la creșterea populației Asiei în perioada menționată.